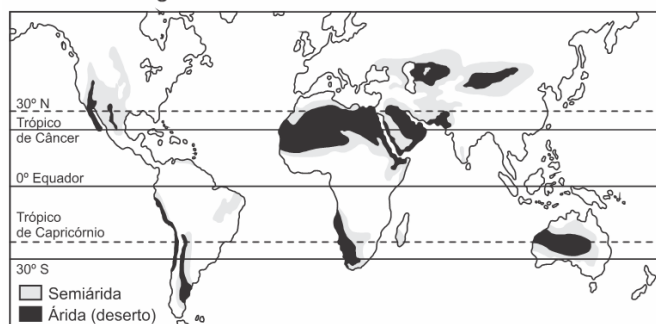


## H6 – Interpretar diferentes representações gráficas e cartográficas dos espaços geográficos.

### 01. H6 (Enem 2019)

Regiões áridas e semiáridas do mundo



SALGADO-LABOURIAL, M.L., *História ecológica da Terra*.  
São Paulo: Edgard Blucher, 1994 (adaptado).

No Hemisfério Sul, a sequência latitudinal dos desertos representada na imagem sofre uma interrupção no Brasil devido à seguinte razão:

- a) Existência de superfícies de intensa refletividade.
- b) Preponderância de altas pressões atmosféricas.
- c) Influência de umidade das áreas florestais.
- d) Predomínio de correntes marinhas frias.
- e) Ausência de massas de ar continentais.

#### Resumo da questão:

Questão de **GEOGRAFIA**.

Geografia física/Clima e vegetação

### 02. H6 (Enem 2019)



Disponível em: <https://hypescience.com>.  
Acesso em: 1 dez. 2018 (adaptado).

A divisão política do mundo como apresentada na imagem seria possível caso o planeta fosse marcado pela estabilidade do(a)

- a) ciclo hidrológico.
- b) processo erosivo.
- c) estrutura geológica.
- d) índice pluviométrico.
- e) pressão atmosférica.

#### Resumo da questão:

Questão de **GEOGRAFIA**.

Geografia física/relevo

### 03. H6 (Enem 2017)

Figura 1

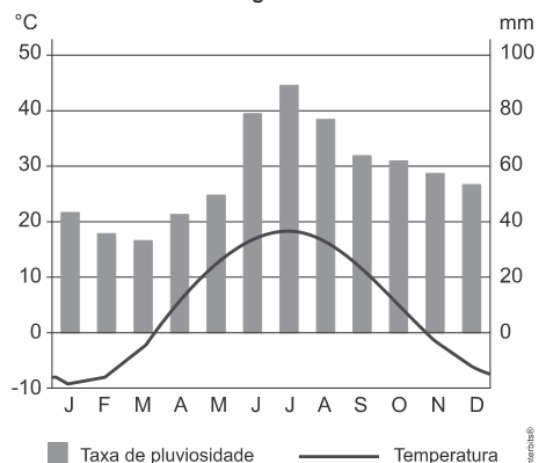


Figura 2



Disponível em: <https://pt.climate-data.org>. Acesso em: 12 maio 2017 (adaptado).

As temperaturas médias mensais e as taxas de pluviosidade expressas no climograma apresentam o clima típico da seguinte cidade:

- a) Cidade do Cabo (África do Sul), marcado pela reduzida amplitude térmica anual.
- b) Sydney (Austrália), caracterizado por precipitações abundantes no decorrer do ano.
- c) Mumbai (Índia), definido pelas chuvas monçônicas torrenciais.
- d) Barcelona (Espanha), afetado por massas de ar seco.
- e) Moscou (Rússia), influenciado pela localização geográfica em alta latitude.



### Resumo da questão:

Questão de **GEOGRAFIA**.

Assunto: Clima

#### 04. H6 (Enem 2017)

Figura 1

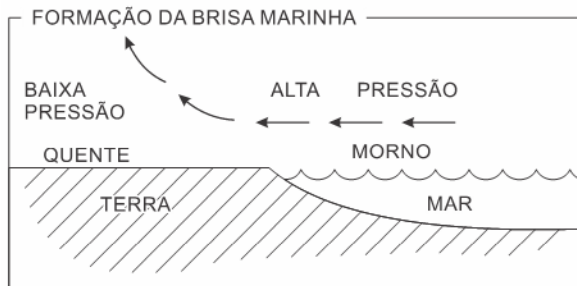
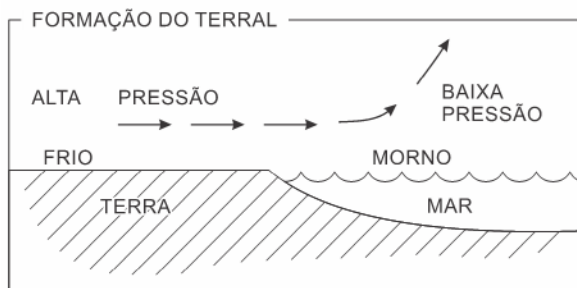


Figura 2



SALGADO-LABOURIAU, M. L. *História ecológica da Terra*. São Paulo: Edgard Blucher, 1994 (adaptado).

Nas imagens constam informações sobre a formação de brisas em áreas litorâneas. Esse processo é resultado de

- a) uniformidade do gradiente de pressão atmosférica.
- b) aquecimento diferencial da superfície.
- c) quedas acentuadas de médias térmicas.
- d) mudanças na umidade relativa do ar.
- e) variações altimétricas acentuadas.

### Resumo da questão:

Questão de **GEOGRAFIA**.

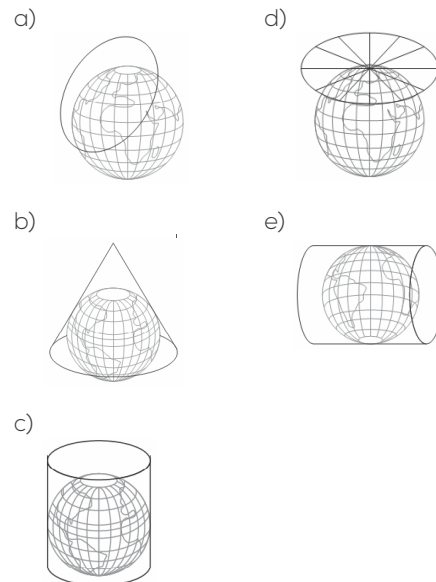
Assunto: Clima

#### 05. H6 (Enem 2016)



Disponível em: [www.unric.org](http://www.unric.org). Acesso em: 9 ago. 2013.

A ONU faz referência a uma projeção cartográfica em seu logotipo. A figura que ilustra o modelo dessa projeção é:

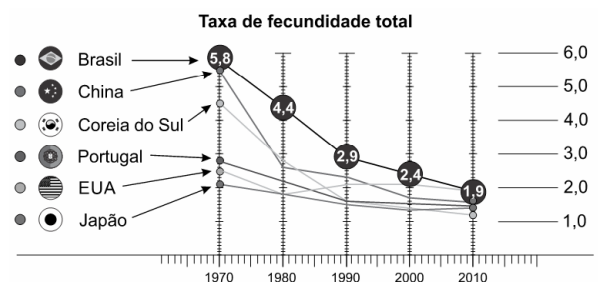


### Resumo da questão:

Questão de **GEOGRAFIA**.

Assunto: Cartografia

06. H6 (Enem 2016) O número de filhos por casal diminuiu rapidamente. Para a maioria dos economistas, isso representa um alerta para o futuro.



Fontes: IBGE e OCDE

Disponível em: <http://epoca.globo.com>. Acesso em: 20 out. 2015 (adaptado)

Uma consequência socioeconômica para os países que vivem o fenômeno demográfico ilustrado é a diminuição da

- a) oferta de mão de obra nacional.
- b) média de expectativa de vida.
- c) disponibilidade de serviços de saúde.
- d) despesa de natureza previdenciária.
- e) imigração de trabalhadores qualificados.

### Resumo da questão:

Questão de **GEOGRAFIA**.

Assunto: Geografia humana: População.



## 07. H6 (Enem 2015)

Figura 1. Diagrama das regiões de intemperismo para as condições brasileiras (adaptado de Peltier, 1950).

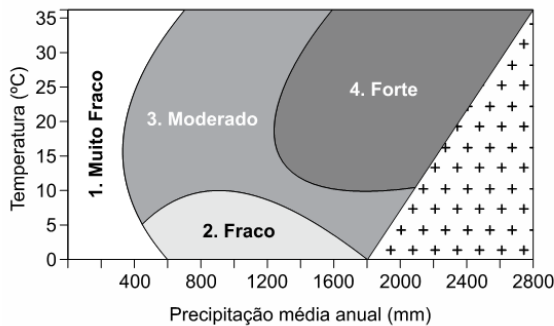


Figura 2. Mapa das regiões de intemperismo do Brasil, baseado no diagrama da Figura 1.



FONTES, M. P. F. Intemperismo de rochas e minerais. In: KER, J. C. et al. (Org.). *Pedologia: fundamentos*. Viçosa (MG): SBCS, 2012 (adaptado).

De acordo com as figuras, a intensidade de intemperismo de grau muito fraco é característica de qual tipo climático?

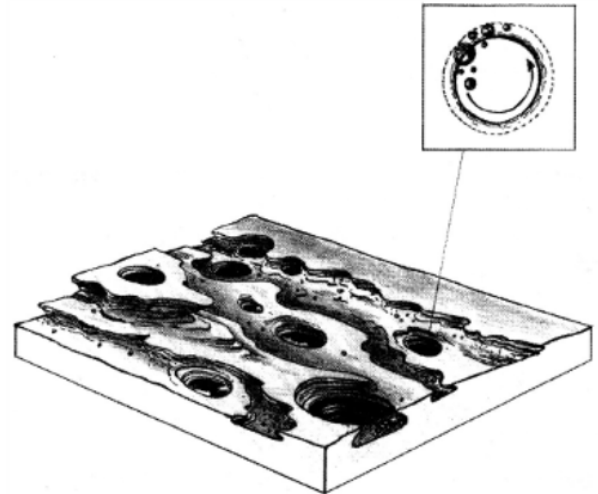
- Tropical.
- Litorâneo.
- Equatorial.
- Semiárido.
- Subtropical.

### Resumo da questão:

Questão de **GEOGRAFIA**.

**Assunto:** Clima/Relevo

## 08. H6 (Enem 2015)



SUERTEGARAY, D. M. A. (Org.) *Terra: feições ilustradas*. Porto Alegre: EdUFRGS, 2003 (adaptado).

A imagem representa o resultado da erosão que ocorre em rochas nos leitos dos rios, que decorre do processo natural de

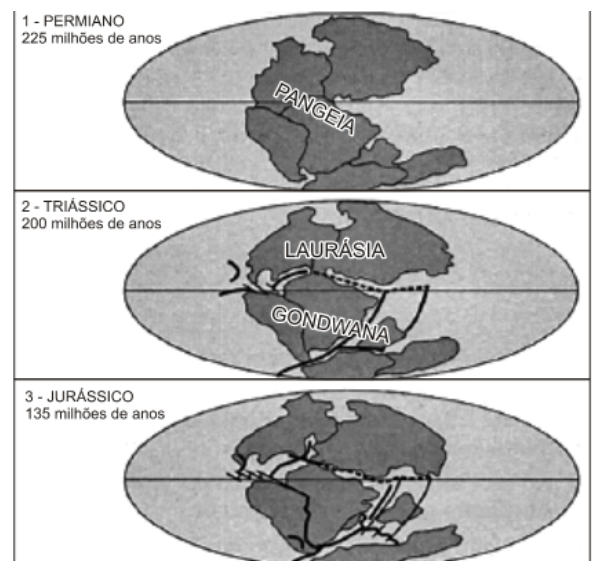
- fraturamento geológico, derivado da força dos agentes internos.
- solapamento de camadas de argilas, transportadas pela correnteza.
- movimento circular de seixos e areias, arrastados por águas turbilhonares.
- decomposição das camadas sedimentares, resultante da alteração química.
- assoreamento no fundo do rio, proporcionado pela chegada de material sedimentar.

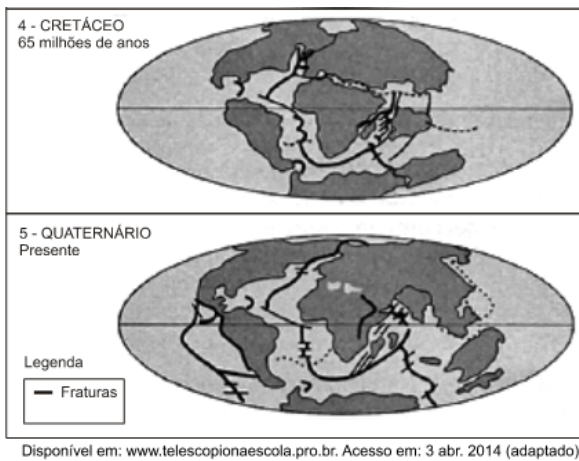
### Resumo da questão:

Questão de **GEOGRAFIA**.

**Assunto:** Geografia física: Relevo.

## 09. H6 (Enem 2014)





A partir da análise da imagem, o aparecimento da Dorsal Mesoatlântica está associado ao(à)

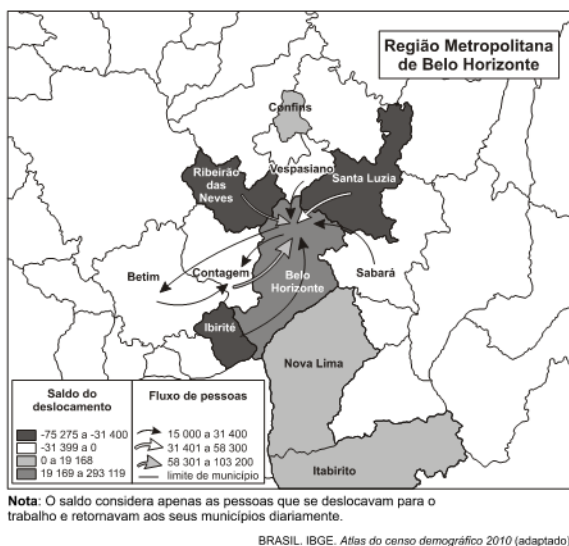
- separação da Pangeia a partir do período Permiano.
- deslocamento de fraturas no período Triássico.
- afastamento da Europa no período Jurássico.
- formação do Atlântico Sul no período Cretáceo.
- constituição de orogêneses no período Quaternário.

#### Resumo da questão:

Questão de **GEOGRAFIA**.

**Assunto:** Geografia física: Relevo.

#### 10. H6 (Enem 2014)



O fluxo migratório representado está associado ao processo de

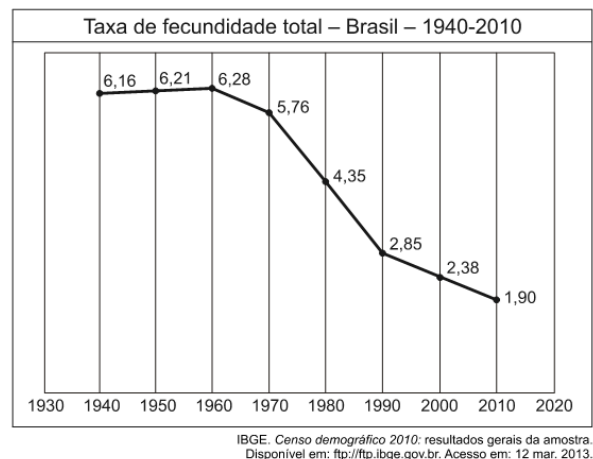
- fuga de áreas degradadas.
- inversão da hierarquia urbana.
- busca por amenidades ambientais.
- conurbação entre municípios contíguos.
- desconcentração dos investimentos produtivos.

#### Resumo da questão:

Questão de **GEOGRAFIA**.

**Assunto:** Geografia humana: Urbanização.

#### 11. H6 (Enem 2013)



O processo registrado no gráfico gerou a seguinte consequência demográfica:

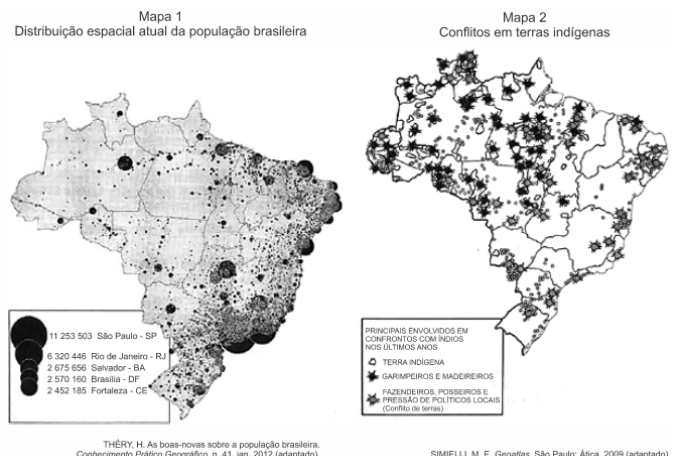
- Decréscimo da população absoluta.
- Redução do crescimento vegetativo.
- Diminuição da proporção de adultos.
- Expansão de políticas de controle da natalidade.
- Aumento da renovação da população economicamente ativa.

#### Resumo da questão:

Questão de **GEOGRAFIA**.

**Assunto:** Geografia humana: População.

#### 12. H6 (Enem 2013)



Os mapas representam distintos padrões de distribuição de processos socioespaciais. Nesse sentido, a menor incidência de disputas territoriais envolvendo povos indígenas se explica pela

- fertilização natural dos solos.
- expansão da fronteira agrícola.
- intensificação da migração de retorno.
- homologação de reservas extrativistas.
- concentração histórica da urbanização.

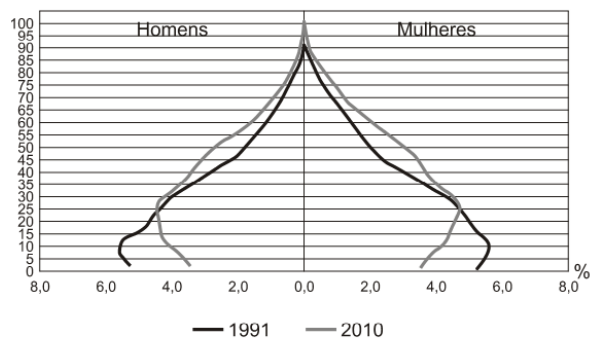
### Resumo da questão:

Questão de **GEOGRAFIA**.

**Assunto:** Geografia humana: População

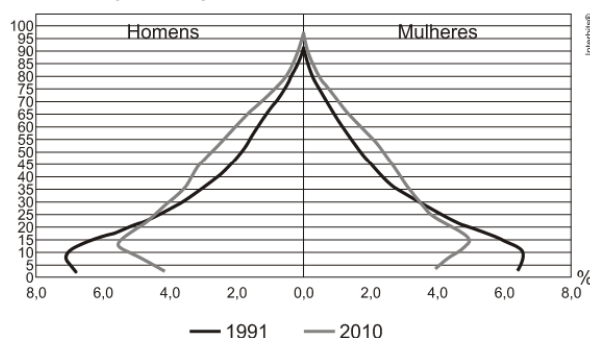
### 13. H6 (Enem 2012)

Composição da população residente urbana por sexo, segundo os grupos de idade - Brasil - 1991/2010



Fonte: IBGE, Censo Demográfico 1991/2010

Composição da população residente rural por sexo, segundo os grupos de idade - Brasil - 1991/2010



Fonte: IBGE, Censo Demográfico 1991/2010

BRASIL. IBGE. Censo demográfico 1991-2010. Rio de Janeiro, 2011.

A interpretação e a correlação das figuras sobre a dinâmica demográfica brasileira demonstram um(a)

- a) menor proporção de fecundidade na área urbana.
- b) menor proporção de homens na área rural.
- c) aumento da proporção de fecundidade na área rural.
- d) queda da longevidade na área rural.
- e) queda do número de idosos na área urbana.

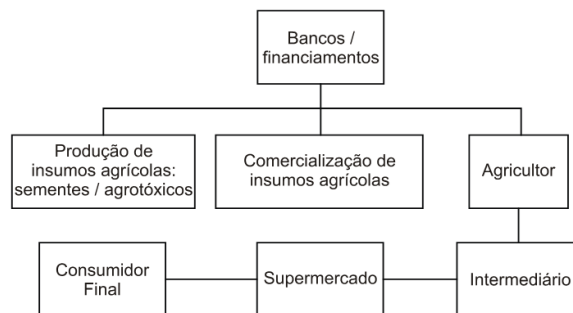
### Resumo da questão:

Questão de **GEOGRAFIA**.

**Assunto:** Geografia humana: População

### 14. H6 (Enem 2011)

Cadeia agroindustrial integrada ao supermercado



SILVA, E. S. O. Circuito espacial de produção e comercialização da produção familiar de tomate no município de São José de Ubá (RJ). In: RIBEIRO, M. A.; MARAFON, G. J. (orgs.). **A metrópole e o interior fluminense: simetrias e assimetrias geográficas**. Rio de Janeiro: Gramma, 2009 (adaptado).

O organograma apresenta os diversos atores que integram uma cadeia agroindustrial e a intensa relação entre os setores primário, secundário e terciário. Nesse sentido, a disposição dos atores na cadeia agroindustrial demonstra

- a) a autonomia do setor primário.
- b) a importância do setor financeiro.
- c) o distanciamento entre campo e cidade.
- d) a subordinação da indústria à agricultura.
- e) a horizontalidade das relações produtivas.

### Resumo da questão:

Questão de **GEOGRAFIA**.

**Assunto:** Geografia geral: Política econômica

### Gabarito

- |      |      |       |       |       |       |       |
|------|------|-------|-------|-------|-------|-------|
| 1. C | 2. C | 3. E  | 4. B  | 5. A  | 6. A  | 7. D  |
| 8. C | 9. D | 10. D | 11. B | 12. E | 13. A | 14. B |