

H1 – Reconhecer características ou propriedades de fenômenos ondulatórios ou oscilatórios, relacionando-os a seus usos em diferentes contextos.

01. H1 (Enem 2019) Quando se considera a extrema velocidade com que a luz se espalha por todos os lados e que, quando vêm de diferentes lugares, mesmo totalmente opostos, os raios luminosos se atravessam uns aos outros sem se atrapalharem, compreende-se que, quando vemos um objeto luminoso, isso não poderia ocorrer pelo transporte de uma matéria que venha do objeto até nós, como uma flecha ou bala atravessa o ar; pois certamente isso repugna bastante a essas duas propriedades da luz, principalmente a última.

HUYGENS, C. in: MARTINS, R. A. Tratado sobre a luz, de Cristian Huygens. Caderno de História e Filosofia da Ciência, supl. 4, 1986.

O texto contesta que concepção acerca do comportamento da luz?

- O entendimento de que a luz precisa de um meio de propagação, difundido pelos defensores da existência do éter.
- O modelo ondulatório para a luz, o qual considera a possibilidade de interferência entre feixes luminosos.
- O modelo corpuscular defendido por Newton, que descreve a luz como um feixe de partículas.
- A crença na velocidade infinita da luz, defendida pela maioria dos filósofos gregos.
- A ideia defendida pelos gregos de que a luz era produzida pelos olhos.

Resumo da questão:

Questão de **FÍSICA**.

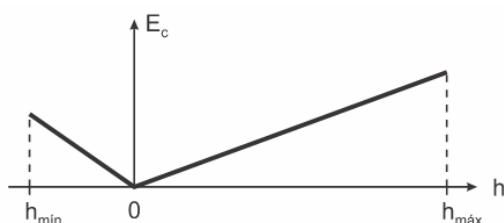
Assunto: Ondulatória/fundamentos

Óptica/fundamentos.

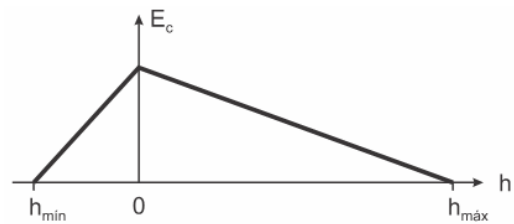
02. H1 (Enem 2017) O brinquedo pula-pula (cama elástica) é composto por uma lona circular flexível horizontal presa por molas à sua borda. As crianças brincam pulando sobre ela, alterando e alternando suas formas de energia. Ao pular verticalmente, desprezando o atrito com o ar e os movimentos de rotação do corpo enquanto salta, uma criança realiza um movimento periódico vertical em torno da posição de equilíbrio da lona passando pelos pontos de máxima e de mínima altura, $h_{\text{máx}}$ e $h_{\text{mín}}$ respectivamente.

Esquemáticamente, o esboço do gráfico da energia cinética da criança em função de sua posição vertical na situação descrita é:

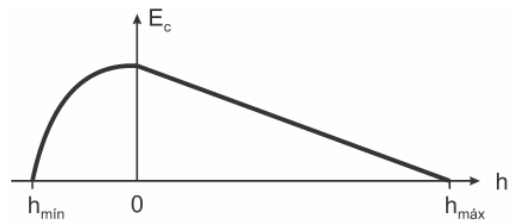
a)



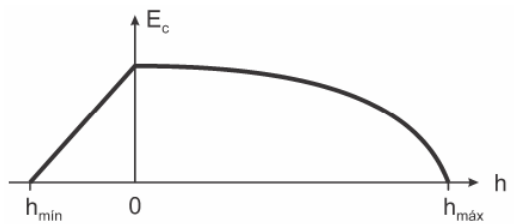
b)



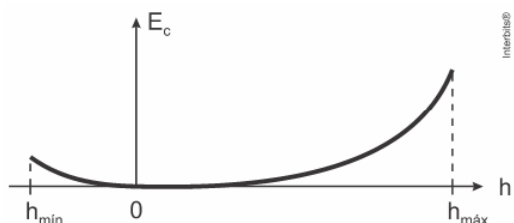
c)



d)



e)



Resumo da questão:

Questão de **FÍSICA**.

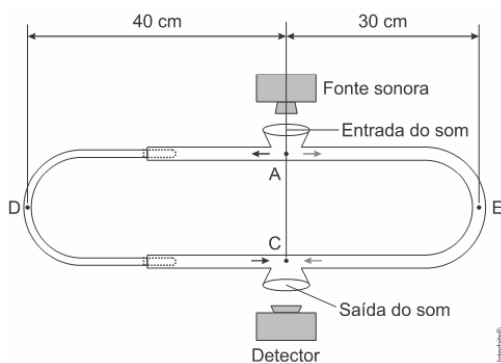
Assunto: Mecânica:

Trabalho e energia/Sistemas conservativos.

03. H1 (Enem 2017) O trombone de Quincke é um dispositivo experimental utilizado para demonstrar o fenômeno da interferência de ondas sonoras. Uma fonte emite ondas sonoras de determinada frequência na entrada do dispositivo. Essas ondas se dividem pelos dois caminhos (ADC e AEC) e se encontram no ponto a saída do dispositivo, onde se posiciona um detector. O trajeto ADC pode ser aumentado pelo deslocamento dessa parte do dispositivo. Com o trajeto ADC igual ao AEC, capta-se um som muito intenso na saída. Entretanto, aumentando-se gradativamente o trajeto ADC, até que ele fique como mostrado na figura, a intensidade do som na saída fica praticamente nula.



Desta forma, conhecida a velocidade do som no interior do tubo é possível determinar o valor da frequência do som produzido pela fonte.



O valor da frequência, em hertz, do som produzido pela fonte sonora é

- a) 3.200
- b) 1.600
- c) 800
- d) 640
- e) 400

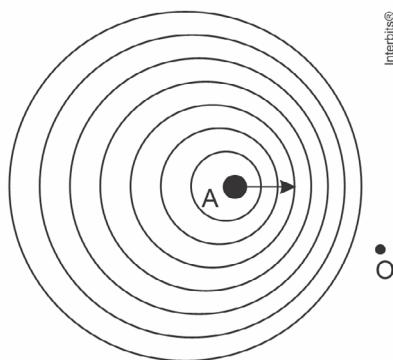
Resumo da questão:

Questão de FÍSICA.

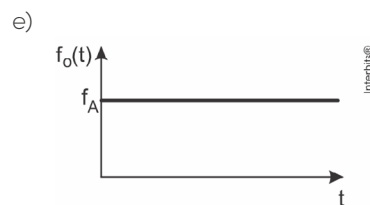
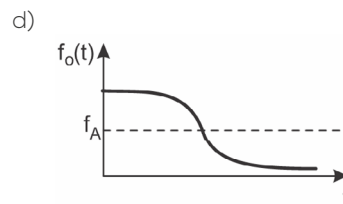
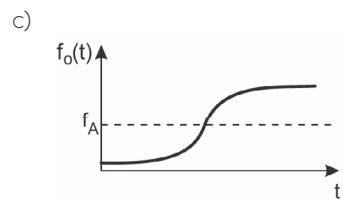
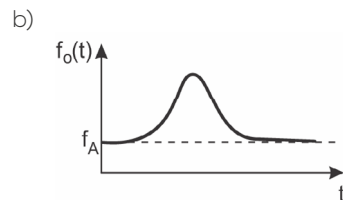
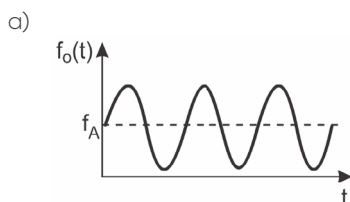
Assunto: Ondulatória: Interferência.

04. H1(Enem 2016) Uma ambulância em movimento retilíneo e uniforme aproxima-se de um observador em repouso. A sirene emite um som de frequência constante f_A . O desenho ilustra as frentes de onda do som emitido pela ambulância.

O observador possui um detector que consegue registrar, no esboço de um gráfico, a frequência da onda sonora detectada em função do tempo $f_o(t)$ antes e depois da passagem da ambulância por ele.



Qual esboço gráfico representa a frequência $f_o(t)$ detectada pelo observador?



Resumo da questão:

Questão de FÍSICA.

Assunto: Ondulatória: Fenômenos.

05. H1 (Enem 2016) O morcego emite pulsos de curta duração de ondas ultrassônicas, os quais voltam na forma de ecos após atingirem objetos no ambiente, trazendo informações a respeito das suas dimensões, suas localizações e dos seus possíveis movimentos. Isso se dá em razão da sensibilidade do morcego em detectar o tempo gasto para os ecos voltarem, bem como das pequenas variações nas frequências e nas intensidades dos pulsos ultrassônicos. Essas características lhe permitem caçar pequenas presas mesmo quando estão em movimento em relação a si. Considere uma situação unidimensional em que uma mariposa se afasta, em movimento retilíneo e uniforme, de um morcego em repouso.

A distância e velocidade da mariposa, na situação descrita, seriam detectadas pelo sistema de um morcego por quais alterações nas características dos pulsos ultrassônicos?

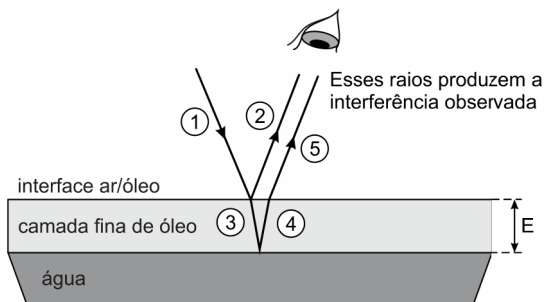
- a) Intensidade diminuída, o tempo de retorno aumentado e a frequência percebida diminuída.
- b) Intensidade aumentada, o tempo de retorno diminuído e a frequência percebida diminuída.
- c) Intensidade diminuída, o tempo de retorno diminuído e a frequência percebida aumentada.
- d) Intensidade diminuída, o tempo de retorno aumentado e a frequência percebida aumentada.
- e) Intensidade aumentada, o tempo de retorno aumentado e a frequência percebida aumentada.

Resumo da questão:

Questão de **FÍSICA**.

Assunto: Ondulatória: Fenômenos.

06. H1 (Enem 2015) Certos tipos de superfícies na natureza podem refletir luz de forma a gerar um efeito de arco-íris. Essa característica é conhecida como iridescência e ocorre por causa do fenômeno da interferência de película fina. A figura ilustra o esquema de uma fina camada iridescente de óleo sobre uma poça d'água. Parte do feixe de luz branca incidente (1) reflete na interface ar/óleo e sofre inversão de fase (2), o que equivale a uma mudança de meio comprimento de onda. A parte refratada do feixe (3) incide na interface óleo/água e sofre reflexão sem inversão de fase (4). O observador indicado enxergará aquela região do filme com coloração equivalente à do comprimento de onda que sofre interferência completamente construtiva entre os raios (2) e (5), mas essa condição só é possível para uma espessura mínima da película. Considere que o caminho percorrido em (3) e (4) corresponde ao dobro da espessura da película de óleo.



Disponível em: <http://2011.igem.org>. Acesso em: 18 nov. 2014 (adaptado).

Expressa em termos do comprimento de onda a espessura mínima é igual a

- a) $\frac{\lambda}{4}$
- b) $\frac{\lambda}{2}$
- c) $\frac{3\lambda}{4}$
- d) λ
- e) 2λ

Resumo da questão:

Questão de **FÍSICA**.

Assunto: Ondulatória: Interferência.

07. H1(Enem 2015) Será que uma miragem ajudou a afundar o Titanic? O fenômeno ótico conhecido como Fata Morgana pode fazer com que uma falsa parede de água apareça sobre o horizonte molhado. Quando as condições são favoráveis, a luz refletida pela água fria pode ser desviada por uma camada incomum de ar quente acima, chegando até o observador, vinda de muitos ângulos diferentes.

De acordo com estudos de pesquisadores da Universidade de San Diego, uma Fata Morgana pode ter obscurecido os icebergs da visão da tripulação que estava a bordo do

Titanic. Dessa forma, a certa distância, o horizonte verdadeiro fica encoberto por uma névoa escurecida, que se parece muito com águas calmas no escuro.

Disponível em: <http://apod.nasa.gov>. Acesso em: 6 set. 2012 (adaptado).

O fenômeno ótico que, segundo os pesquisadores, provoca a Fata Morgana é a

- a) ressonância.
- b) refração.
- c) difração.
- d) reflexão.
- e) difusão.

Resumo da questão:

Questão de **FÍSICA**.

Assunto: Óptica: Refração/Snell

08. H1 (Enem 2015) Ao ouvir uma flauta e um piano emitindo a mesma nota musical, consegue-se diferenciar esses instrumentos um do outro.

Essa diferenciação se deve principalmente ao(a)

- a) intensidade sonora do som de cada instrumento musical.
- b) potência sonora do som emitido pelos diferentes instrumentos musicais.
- c) diferente velocidade de propagação do som emitido por cada instrumento musical
- d) timbre do som, que faz com que os formatos das ondas de cada instrumento sejam diferentes.
- e) altura do som, que possui diferentes frequências para diferentes instrumentos musicais.

Resumo da questão:

Questão de **FÍSICA**.

Assunto: Ondulatória:

Qualidades Fisiológicas do Som.

09. H1(Enem 2014) Christiaan Huygens, em 1656, criou o relógio de pêndulo. Nesse dispositivo, a pontualidade baseia-se na regularidade das pequenas oscilações do pêndulo. Para manter a precisão desse relógio, diversos problemas foram contornados. Por exemplo, a haste passou por ajustes até que, no início do século XX, houve uma inovação, que foi sua fabricação usando uma liga metálica que se comporta regularmente em um largo intervalo de temperaturas.

YODER, J. G. *Unrolling Time: Christiaan Huygens and the mathematization of nature*. Cambridge: Cambridge University Press, 2004 (adaptado).

Desprezando a presença de forças dissipativas e considerando a aceleração da gravidade constante, para que esse tipo de relógio realize corretamente a contagem do tempo, é necessário que o(a)



- a) comprimento da haste seja mantido constante.
- b) massa do corpo suspenso pela haste seja pequena.
- c) material da haste possua alta condutividade térmica.
- d) amplitude da oscilação seja constante a qualquer temperatura.
- e) energia potencial gravitacional do corpo suspenso se mantenha constante.

Resumo da questão:

Questão de **FÍSICA**.

Assunto: Mecânica:

Movimento Harmônico Simples/Osciladores

10. H1 (Enem 2014) Ao sintonizarmos uma estação de rádio ou um canal de TV em um aparelho, estamos alterando algumas características elétricas de seu circuito receptor. Das inúmeras ondas eletromagnéticas que chegam simultaneamente ao receptor, somente aquelas que oscilam com determinada frequência resultarão em máxima absorção de energia.

O fenômeno descrito é a

- a) difração.
- b) refração.
- c) polarização.
- d) interferência.
- e) ressonância.

Resumo da questão:

Questão de **FÍSICA**.

Assunto: Ondulatória: Fenômenos.

11. H1 (Enem 2014) Quando adolescente, as nossas tardes, após as aulas, consistiam em tomar às mãos o violão e o dicionário de acordes de Almir Chediak e desafiar nosso amigo Hamilton a descobrir, apenas ouvindo o acorde, quais notas eram escolhidas. Sempre perdíamos a aposta, ele possui o ouvido absoluto.

O ouvido absoluto é uma característica perceptual de poucos indivíduos capazes de identificar notas isoladas sem outras referências, isto é, sem precisar relacioná-las com outras notas de uma melodia.

LENT, R. *O cérebro do meu professor de acordeão*. Disponível em: <http://cienciahoje.uol.com.br>. Acesso em: 15 ago. 2012 (adaptado).

No contexto apresentado, a propriedade física das ondas que permite essa distinção entre as notas é a

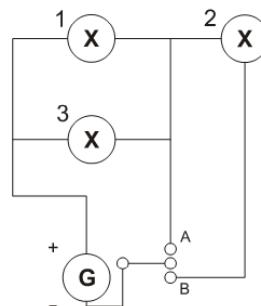
- a) frequência.
- b) intensidade.
- c) forma da onda.
- d) amplitude da onda.
- e) velocidade de propagação.

Resumo da questão:

Questão de **FÍSICA**.

Assunto: Ondulatória: Fundamentos.

12. H1 (Enem 2014) Um sistema de iluminação foi construído com um circuito de três lâmpadas iguais conectadas a um gerador (G) de tensão constante. Esse gerador possui uma chave que pode ser ligada nas posições A ou B.



Considerando o funcionamento do circuito dado, a lâmpada 1 brilhará mais quando a chave estiver na posição

- a) B, pois a corrente será maior nesse caso.
- b) B, pois a potência total será maior nesse caso.
- c) A, pois a resistência equivalente será menor nesse caso.
- d) B, pois o gerador fornecerá uma maior tensão nesse caso.
- e) A, pois a potência dissipada pelo gerador será menor nesse caso.

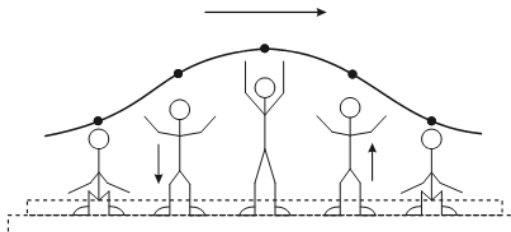
Resumo da questão:

Questão de **FÍSICA**.

Assunto: Eletricidade:

Eletrodinâmica/Associação de resistores.

13. H1(Enem 2013) Uma manifestação comum das torcidas em estádios de futebol é a ola mexicana. Os espectadores de uma linha, sem sair do lugar e sem se deslocarem lateralmente, ficam de pé e se sentam, sincronizados com os da linha adjacente. O efeito coletivo se propaga pelos espectadores do estádio, formando uma onda progressiva, conforme ilustração.



Calcula-se que a velocidade de propagação dessa "onda humana" é de 45 km/h, e que cada período de oscilação contém 16 pessoas, que se levantam e sentam organizadamente e distanciadas entre si por 80 cm.

Disponível em: www.ufsm.br. Acesso em: 7 dez. 2012 (adaptado).

Nessa ola mexicana, a frequência da onda, em hertz, é um valor mais próximo de

- a) 0,3.
- b) 0,5.
- c) 1,0.
- d) 1,9.
- e) 3,7.

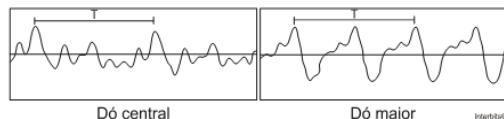
Resumo da questão:

Questão de **FÍSICA**.

Assunto: Ondulatória:

Equação Fundamental.

14. H1 (Enem 2013) Em um piano, o Dó central e a próxima nota Dó (Dó maior) apresentam sons parecidos, mas não idênticos. É possível utilizar programas computacionais para expressar o formato dessas ondas sonoras em cada uma das situações como apresentado nas figuras, em que estão indicados intervalos de tempo idênticos (T).



A razão entre as frequências do Dó central e do Dó maior é de:

- a) $\frac{1}{2}$
- b) 2
- c) 1
- d) $\frac{1}{4}$
- e) 4

Resumo da questão:

Questão de **FÍSICA**.

Assunto: Ondulatória: Fundamentos.

15. H1 (Enem 2012) Em um dia de chuva muito forte, constatou-se uma goteira sobre o centro de uma piscina coberta, formando um padrão de ondas circulares. Nessa situação, observou-se que caíam duas gotas a cada segundo. A distância entre duas cristas consecutivas era de 25 cm e cada uma delas se aproximava da borda da piscina com velocidade de 1,0 m/s. Após algum tempo a chuva diminuiu e a goteira passou a cair uma vez por segundo.

Com a diminuição da chuva, a distância entre as cristas e a velocidade de propagação da onda se tornaram, respectivamente,

- a) maior que 25 cm e maior que 1,0 m/s.
- b) maior que 25 cm e igual a 1,0 m/s.
- c) menor que 25 cm e menor que 1,0 m/s.
- d) menor que 25 cm e igual a 1,0 m/s.
- e) igual a 25 cm e igual a 1,0 m/s.

Resumo da questão:

Questão de **FÍSICA**.

Assunto: Ondulatória:

Equação Fundamental.

16. H1 (Enem 2011) Segundo dados do Balanço Energético Nacional de 2008, do Ministério das Minas e Energia, a matriz energética brasileira é composta por hidrelétrica (80%), termelétrica (19,9%) e eólica (0,1%). Nas termelétricas, esse percentual é dividido conforme o combustível usado, sendo: gás natural (6,6%), biomassa (5,3%), derivados de petróleo (3,3%), energia nuclear (3,1%) e carvão mineral (1,6%). Com a geração de eletricidade da biomassa, pode-se considerar que ocorre uma compensação do carbono liberado na queima do material vegetal pela absorção desse elemento no crescimento das plantas. Entretanto, estudos indicam que as emissões de metano (CH_4) das hidrelétricas podem ser comparáveis às emissões de CO_2 das termelétricas.

MORET, A. S.; FERREIRA, I. A. As hidrelétricas do Rio Madeira e os impactos socioambientais da eletrificação no Brasil. *Revista Ciência Hoje*. V. 45, n° 265, 2009 (adaptado).

No Brasil, em termos do impacto das fontes de energia no crescimento do efeito estufa, quanto à emissão de gases, as hidrelétricas seriam consideradas como uma fonte

- a) limpa de energia, contribuindo para minimizar os efeitos deste fenômeno.
- b) eficaz de energia, tornando-se o percentual de oferta e os benefícios verificados.
- c) limpa de energia, não afetando ou alterando os níveis dos gases do efeito estufa.
- d) poluidora, colaborando com níveis altos de gases de efeito estufa em função de seu potencial de oferta.
- e) alternativa, tomando-se por referência a grande emissão de gases de efeito estufa das demais fontes geradoras.

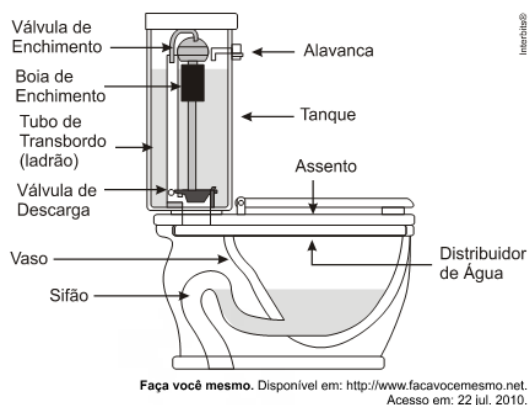
Resumo da questão:

Questão de **BIOLOGIA**.

Assunto: Ecologia: Ciclos biogeoquímicos.

17. H1 (Enem 2011) Um tipo de vaso sanitário que vem substituindo as válvulas de descarga está esquematizado na figura. Ao acionar a alavanca, toda a água do tanque é escoada e aumenta o nível no vaso, até cobrir o sifão. De acordo com o Teorema de Stevin, quanto maior a profundidade, maior a pressão. Assim, a água desce levando os rejeitos até o sistema de esgoto. A válvula da caixa de descarga se fecha e ocorre o seu enchimento. Em relação às válvulas de descarga, esse tipo de sistema proporciona maior economia de água.





A característica de funcionamento que garante essa economia é devida

- a) à altura do sifão de água.
- b) ao volume do tanque de água.
- c) à altura do nível de água no vaso.
- d) ao diâmetro do distribuidor de água.
- e) à eficiência da válvula de enchimento do tanque.

Resumo da questão:

Questão de **FÍSICA**.

Assunto: Mecânica: Hidrostática/Stevin.

Gabarito

- | | | | | | |
|-------|-------|-------|-------|-------|-------|
| 1. C | 2. C | 3. C | 4. D | 5. A | 6. A |
| 7. B | 8. D | 9. A | 10. E | 11. A | 12. C |
| 13. C | 14. A | 15. B | 16. D | 17. B | |